



# LKKK

Nama Kelompok :

1. ....
2. ....
3. ....
4. ....
5. ....

## AKTIVITAS 1

Perhatikan gambar-gambar dibawah ini



Sumber: Foto Haryana

Roll meter



Sumber: Foto Haryana

Penggaris



Strature Meter




Sumber: Foto Haryana

metelin



Seorang tukang bangunan mengukur panjang kayu yang dibutuhkan untuk membuat pintu . Alat ukur yang cocok untuk digunakan adalah.....  
 Mengapa?.....



Seorang anak ingin mengukur panjang buku paket biologi. Apakah alat ukur yang digunakannya ?.....  
 Mengapa ?.....



Sumber: Foto Haryana

Ada anak yang membeli kain di toko. Penjual kain akan mengukur panjang kain tersebut. Alat ukur apakah yang digunakannya untuk mengukur kain tersebut?  
 .....  
 Mengapa ?.....



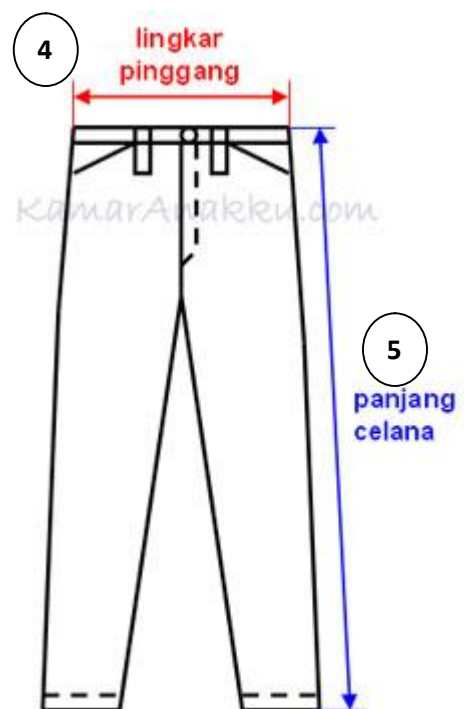
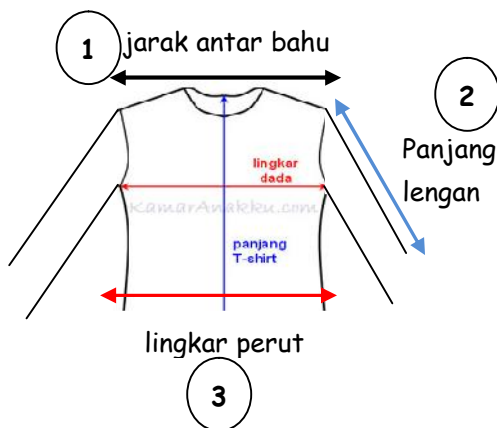
Seorang anak ingin mengukur tinggi badannya. Alat ukur apa yang cocok digunakan?.....  
 Mengapa?.....

## AKTIVITAS 2



Seorang penjahit mendapat pesanan baju sekolah dari siswa SD. Ia perlu mengukur anggota tubuh siswa tersebut. Karena lupa menaruh metelin yang biasa ia gunakan untuk mengukur badan pemesan baju, jadi dia menggunakan tali rafia. Ibaratkan kalian dalam satu kelompok ada yang berperan sebagai penjahit dan siswa. Lakukanlah kegiatan mengukur badan dan catat hasilnya ke dalam tabel berikut.

Ukurlah pada bagian-bagian tubuh pada model baju dan celana panjang dibawah ini.



Hasil pengukuran :

1. Panjang lingkar bahu =            cm
2. Panjang lengan =                cm
3. Panjang lingkar perut =         cm
4. Panjang lingkar pinggang =     cm
5. Panjang celana =                cm